

بسم الله الرحمن الرحيم  
اللهم صل على محمد و آل محمد



[www.egza.tk](http://www.egza.tk)

برای دریافت سوالات دروس دیگر  
می توانید به آدرس زیر مراجعه کنید

تعداد سؤال: نسی ۳۰ تکمیلی - تفریضی -  
 زمان امتحان: نسی و تکمیلی ۶۰ دقیقه تفریضی - نسی  
 تعداد کل صفحات: ۸

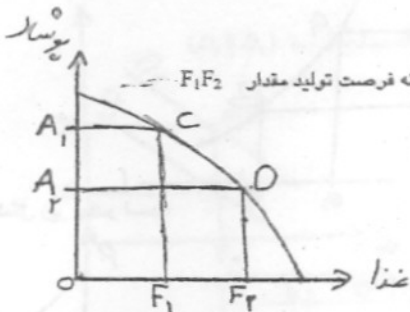
۱۲ / ۱۱ / ۹  
 ۱۱

نام نرس: اقتصاد خرد  
 نام بخش: حسابداری - اقتصاد - مدیریت  
 کد نرس: ۲۸۱۳۶

استفاده از ماشین حساب مجاز است.


- ۱- هزینه فرصت عبارت است از ...  
 الف - قیمت تمام شده یک کالا در حسابهای سود و زیان  
 ب - فایده ای که به دلیل انجام کار دیگری از دست می دهیم  
 ج - هزینه های آشکار یک مؤسسه اقتصادی  
 د - سود در بخش حسابداری شرکتها

- ۲- بازار کار آمد چگونه بازاری است؟  
 الف - بازاری که فرصتهای سود احتمالی در آن به سرعت از بین می رود  
 ب - بازاری که همیشه سود اقتصادی در آن مثبت است  
 ج - بازاری که در آن هزینه متوسط صفر است  
 د - بازاری که در آن هزینه نهایی منفی است



- ۳- اگر بر روی منحنی امکانات تولید زیر، از نقطه C به D حرکت کنیم هزینه فرصت تولید مقدار  $F_1F_2$  مواد غذایی چقدر است؟  
 الف -  $OA_2$  پوشاک  
 ب -  $OA_1$  پوشاک  
 ج -  $A_1A_2$  پوشاک  
 د -  $A_1C$  مواد غذایی
- ۴- در چه نظام اقتصادی دولت با برنامه ریزی یا سخگویی به سؤالات اساسی اقتصاد را به عهده دارد؟  
 الف - نظام اقتصاد بازار آزاد  
 ب - نظام اقتصاد سوسیالیستی  
 ج - نظام اقتصاد مختلط  
 د - نظام اقتصاد اسلامی

- ۵- در کدام بازار هنگامها تقاضا کننده هستند؟  
 الف - عوامل تولید  
 ب - ستاده ها  
 ج - عمده فروشی کالاها  
 د - خرده فروشی کالاها



نام درس: اقتصاد خرد

تعداد سوال: هفتی ۲۰ تکمیلی - تشریحی -

نام بخش: حسابداری - اقتصاد - مدیریت

زمان امتحان: تشریحی و تکمیلی ۶۰ دقیقه تشریحی -

کلاس: ۲۸۱۲۶

تعداد کل صفحات: ۸

۶- اگر درآمد فردی افزایش یابد میزان مصرفش از کالای X (کالایی که او مصرف می کند) چه تغییری می کند؟

- الف - به نوع کالا بستگی دارد
- ب - تغییری نمی کند
- ج - کاهش می یابد
- د - افزایش می یابد

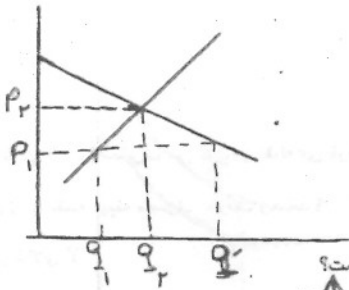
۷- اگر قیمت یک کالا افزایش یابد..... کالای جانشین آن ..... می یابد.

- الف - تقاضای - کاهش
- ب - مقدار عرضه - افزایش
- ج - مقدار عرضه - کاهش
- د - تقاضای - افزایش

۸- کدامیک از عوامل زیر باعث جابجایی منحنی حرکت عرضه می شود؟

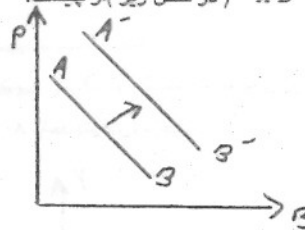
- الف - تغییر در قیمت کالا
- ب - تغییر در درآمد مصرف کننده
- ج - تغییر سلیقه مصرف کننده
- د - تغییر در تکنولوژی

۹- در شکل زیر در سطح قیمت  $P_1$  چه شرایطی در بازار حاکم است؟



- الف - تقاضای مازاد
- ب - عرضه مازاد
- ج - تعادل
- د - انحصار

۱۰- انتقال منحنی تقاضای قند از AB به A'B' (در شکل زیر) از چیست؟



- الف - افزایش قیمت چای
- ب - کاهش قیمت شکر
- ج - افزایش قیمت شکر
- د - کاهش قیمت قند

۱۱- قانون عرضه بیانگر چیست؟

- الف - رابطه میان مقدار عرضه و مقدار تقاضا



نام نرس: اقتصاد خرد  
 نام بخش: حسابداری - اقتصاد - مدیریت  
 کلاس: ۲۸۱۳۶

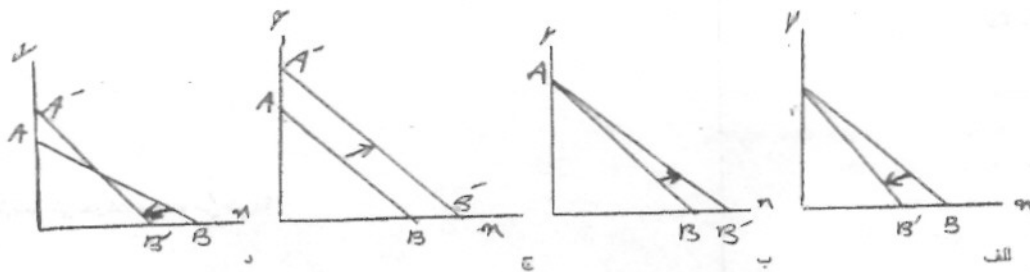
تعداد سوال: فسخ ۳۰ تکمیلی - تفریحی -  
 زمان امتحان: تفسیر و تکمیلی ۶۰ دقیقه تفریحی -  
 تعداد کل صفحات: ۸

نام نرس: ۱۱  
 نام بخش: ۲  
 کلاس: ۶

استفا

- ب - رابطه مثبت میان قیمت و مقدار عرضه است
- ج - رابطه بین قیمت عوامل تولید مقدار عرضه
- د - رابطه مثبت بین قیمت های انتظاری و مقدار عرضه

۱۲ کدامیک از اشکال زیر تأثیر کاهش قیمت کالای X و ثبات قیمت کالای Y را (خط بودجه) نشان می دهد؟



- ۱۳ هر گاه مطلوبیت نهایی صفر است ، مطلوبیت کل ...است.
- الف - در حال کاهش
- ب - در حال افزایش
- ج - در حد اکثر
- د - نامشخص

۱۴ اگر مصرف کننده ای که تنها دو کالای X و Y را مصرف می کند در نقطه ای قرار داشته باشد که

$$\frac{MU_x}{MU_y} > \frac{P_x}{P_y}$$

باشد که کدام انتخاب وی را به نقطه بهینه مصرف خواهد رساند ؟

- الف - مصرف کمتر کالای X و مصرف بیشتر کالای Y
  - ب - مصرف بیشتر از هر دو کالای X, Y
  - ج - مصرف کمتر از هر دو کالای X, Y
  - د - مصرف بیشتر از کالای X و مصرف کمتر از کالای Y
- ۱۵ در شکل زیر اگر مخارج مصرف کننده روی کالای X در شرایط بهینه برابر ۸۰ واحد (تومان) ترکیب بهینه مصرف این مصرف کننده چقدر است؟ (قیمت کالای Y برابر ۴ است.)

- الف - X = ۵ و Y = ۲۰
- ب - X = ۲۰ و Y = ۵
- ج - X = ۵۰ و Y = ۲۰
- د - X = ۲۰ و Y = ۱۰

